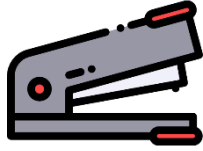





FÍJATE EN LOS SIGUIENTES PRECIOS



3€



7€



2€



4€

¿CUÁNTO CUESTAN EL PEGAMENTO Y EL LÁPIZ JUNTOS?

$$\begin{array}{r}
 + \begin{array}{|c|c|} \hline & \\ \hline & \\ \hline \end{array} \\
 \hline
 \begin{array}{|c|c|} \hline & \\ \hline \end{array}
 \end{array}$$

¿CUÁNTO CUESTAN EL PEGAMENTO, LA GRAPADORA Y LA REGLA JUNTOS?

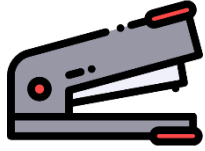
$$\begin{array}{r}
 + \begin{array}{|c|c|} \hline & \\ \hline & \\ \hline & \\ \hline \end{array} \\
 \hline
 \begin{array}{|c|c|} \hline & \\ \hline \end{array}
 \end{array}$$




FÍJATE EN LOS SIGUIENTES PRECIOS



3€



7€



2€



4€

¿Cuánto cuestan el pegamento y el lápiz **juntos**?

$$\begin{array}{r}
 + \begin{array}{|c|c|} \hline & \\ \hline & \\ \hline \end{array} \\
 \hline
 \begin{array}{|c|c|} \hline & \\ \hline \end{array}
 \end{array}$$

¿Cuánto cuestan el pegamento, la grapadora y la regla **juntos**?

$$\begin{array}{r}
 + \begin{array}{|c|c|} \hline & \\ \hline & \\ \hline & \\ \hline \end{array} \\
 \hline
 \begin{array}{|c|c|} \hline & \\ \hline \end{array}
 \end{array}$$



FÍJATE EN LOS SIGUIENTES PRECIOS



12€



3€



1€



6€

¿CUÁNTO CUESTAN LA MOCHILA Y EL BOLÍGRAFO JUNTOS?

$$\begin{array}{r}
 + \begin{array}{|c|c|} \hline & \\ \hline & \\ \hline \end{array} \\
 \hline
 \begin{array}{|c|c|} \hline & \\ \hline \end{array}
 \end{array}$$

¿CUÁNTO CUESTAN LA CHINCHETA, LAS TIJERAS Y EL BOLÍGRAFO JUNTOS?

$$\begin{array}{r}
 + \begin{array}{|c|c|} \hline & \\ \hline & \\ \hline & \\ \hline \end{array} \\
 \hline
 \begin{array}{|c|c|} \hline & \\ \hline \end{array}
 \end{array}$$



FÍJATE EN LOS SIGUIENTES PRECIOS



12€



3€



1€



6€

¿Cuánto cuestan la mochila y el bolígrafo juntos?

$$\begin{array}{r}
 + \begin{array}{|c|c|} \hline & \\ \hline & \\ \hline \end{array} \\
 \hline
 \begin{array}{|c|c|} \hline & \\ \hline \end{array}
 \end{array}$$

¿Cuánto cuestan la chincheta, las tijeras y el bolígrafo juntos?

$$\begin{array}{r}
 + \begin{array}{|c|c|} \hline & \\ \hline & \\ \hline & \\ \hline \end{array} \\
 \hline
 \begin{array}{|c|c|} \hline & \\ \hline \end{array}
 \end{array}$$



FÍJATE EN LOS SIGUIENTES PRECIOS



12€



3€



1€



6€

¿CUÁNTO CUESTAN LA MOCHILA Y EL BOLÍGRAFO JUNTOS?

$$\begin{array}{r}
 + \begin{array}{|c|c|} \hline & \\ \hline & \\ \hline \end{array} \\
 \hline
 \begin{array}{|c|c|} \hline & \\ \hline \end{array}
 \end{array}$$

¿CUÁNTO CUESTAN LA CHINCHETA, LAS TIJERAS Y EL BOLÍGRAFO JUNTOS?

$$\begin{array}{r}
 + \begin{array}{|c|c|} \hline & \\ \hline & \\ \hline & \\ \hline \end{array} \\
 \hline
 \begin{array}{|c|c|} \hline & \\ \hline \end{array}
 \end{array}$$



FÍJATE EN LOS SIGUIENTES PRECIOS



4€



1€



2€



2€

¿CUÁNTO CUESTAN EL TROZO DE PIZZA Y EL LIMÓN JUNTOS?

$$\begin{array}{r}
 + \begin{array}{|c|c|} \hline & \\ \hline & \\ \hline \end{array} \\
 \hline
 \begin{array}{|c|c|} \hline & \\ \hline \end{array}
 \end{array}$$

¿CUÁNTO CUESTA LA LECHE, EL LIMÓN Y LAS PATATAS JUNTOS?

$$\begin{array}{r}
 + \begin{array}{|c|c|} \hline & \\ \hline & \\ \hline & \\ \hline \end{array} \\
 \hline
 \begin{array}{|c|c|} \hline & \\ \hline \end{array}
 \end{array}$$



FÍJATE EN LOS SIGUIENTES PRECIOS



4€



1€



2€



2€

¿Cuánto cuestan el trozo de pizza y el limón **juntos?**

$$\begin{array}{r}
 + \begin{array}{|c|c|} \hline & \\ \hline & \\ \hline \end{array} \\
 \hline
 \begin{array}{|c|c|} \hline & \\ \hline \end{array}
 \end{array}$$

¿Cuánto cuesta la leche, el limón y las patatas **juntos?**

$$\begin{array}{r}
 + \begin{array}{|c|c|} \hline & \\ \hline & \\ \hline & \\ \hline \end{array} \\
 \hline
 \begin{array}{|c|c|} \hline & \\ \hline \end{array}
 \end{array}$$